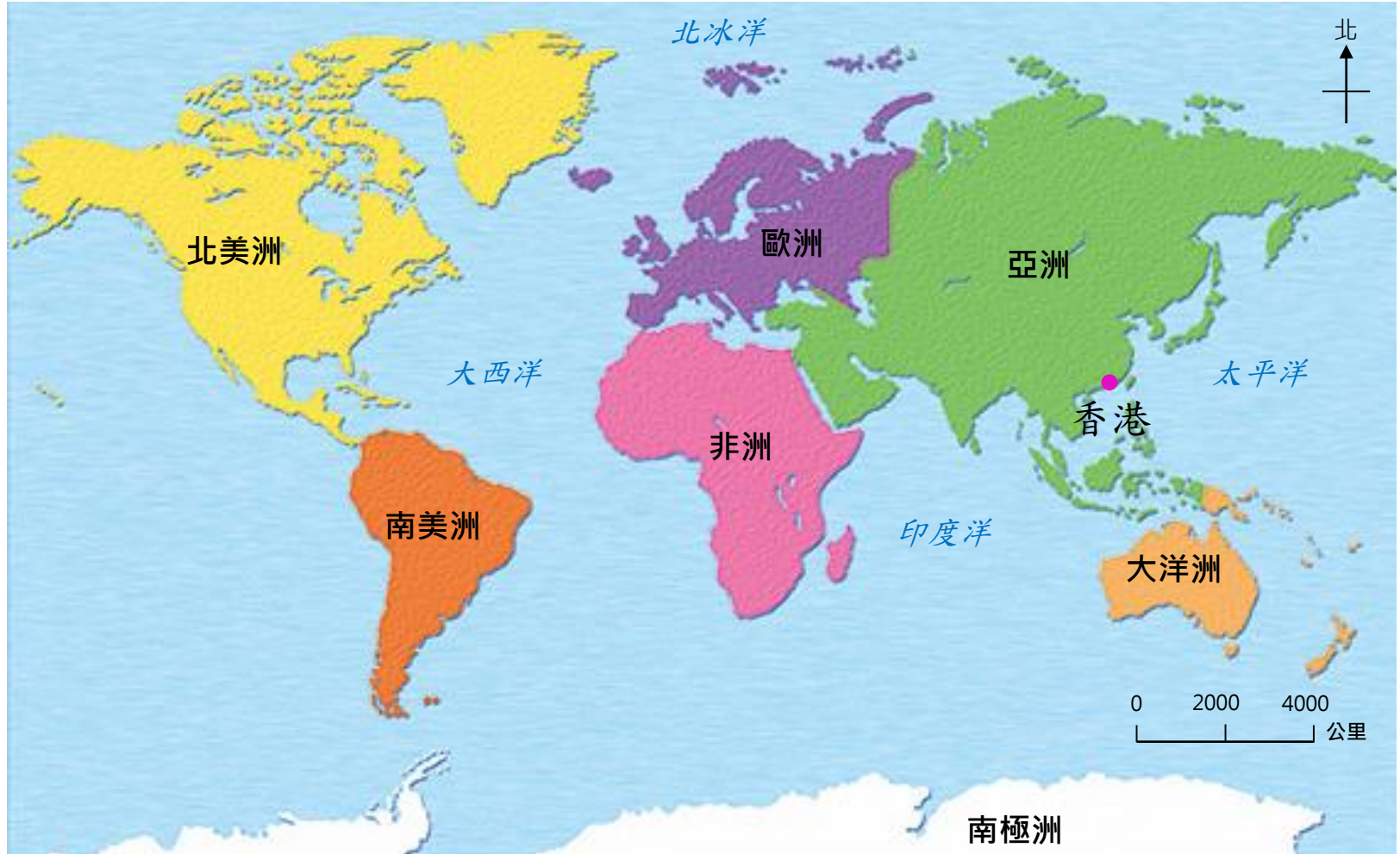


# 不同的地圖

第1課 小小考察隊

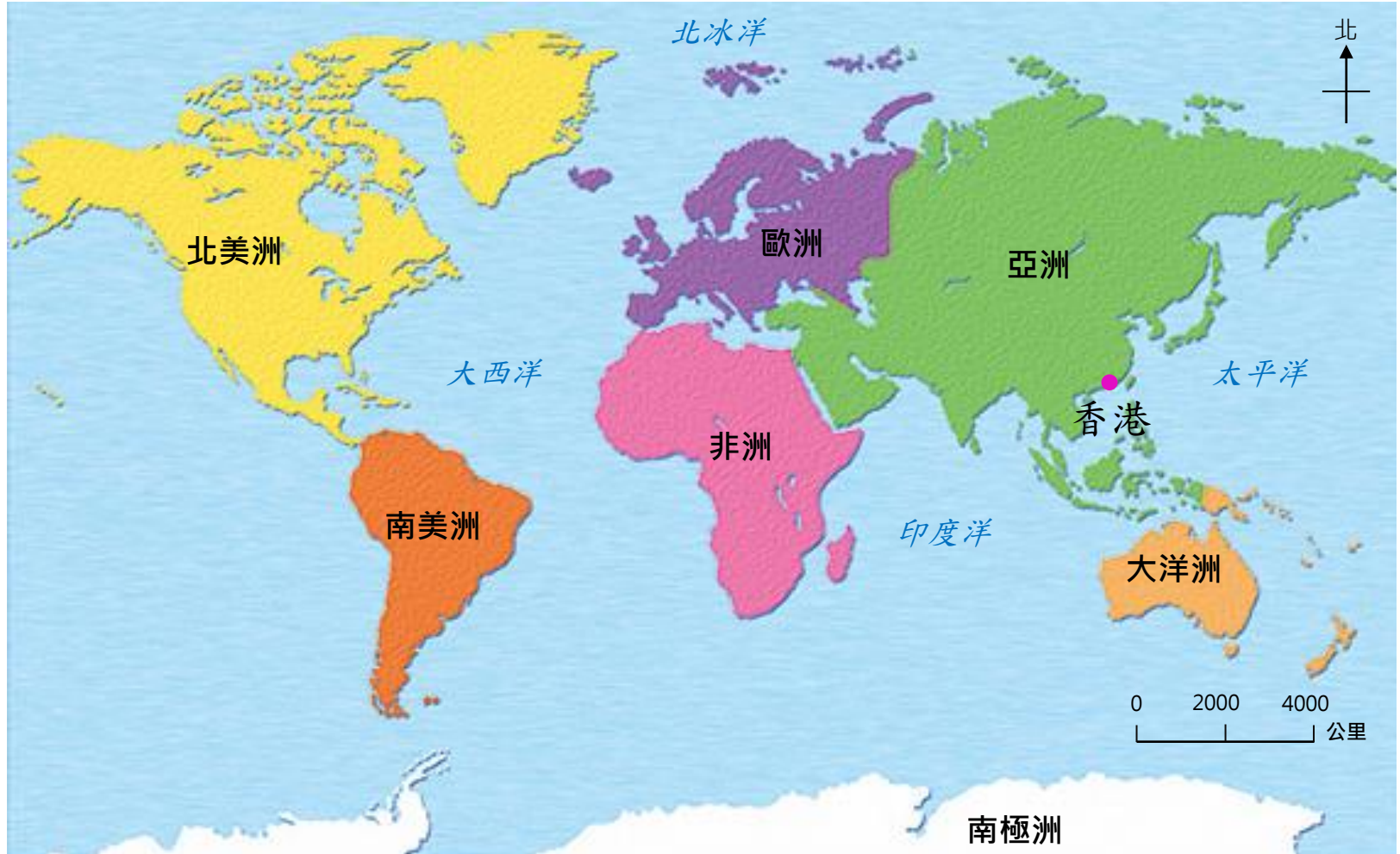
活動1 題1 頁4

# 世界地圖



◆顯示七大洲和四大洋，讓我們知道它們的位置。

# 世界地圖



◆ 香港位於 亞洲，面積很小。

# 亞洲地圖



- ◆ 顯示亞洲的國家和地區，讓我們知道亞洲各國和地區的分佈，鄰近香港有哪些國家。

# 亞洲地圖



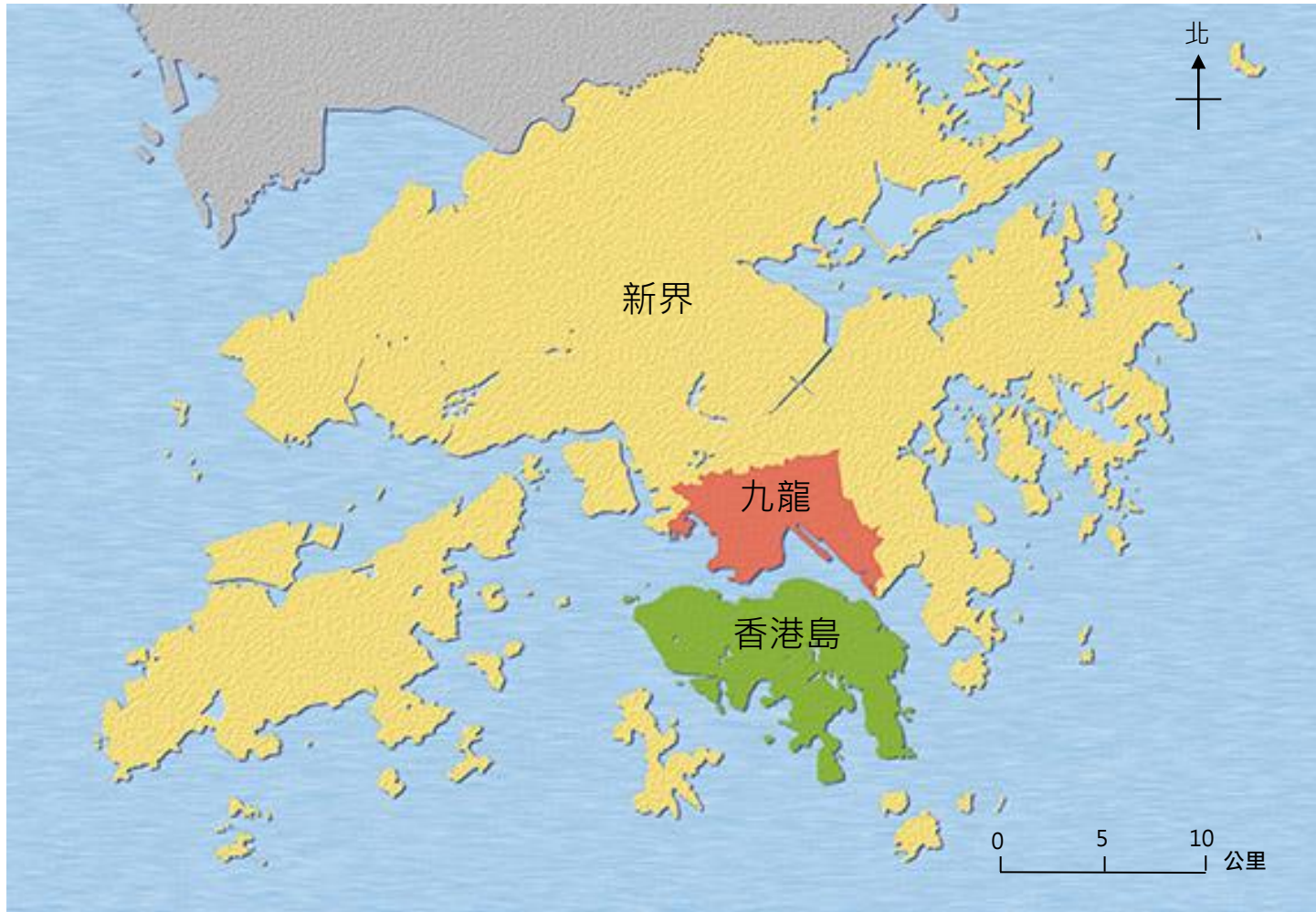
◆ 香港位於 中國 東南端。

# 亞洲地圖



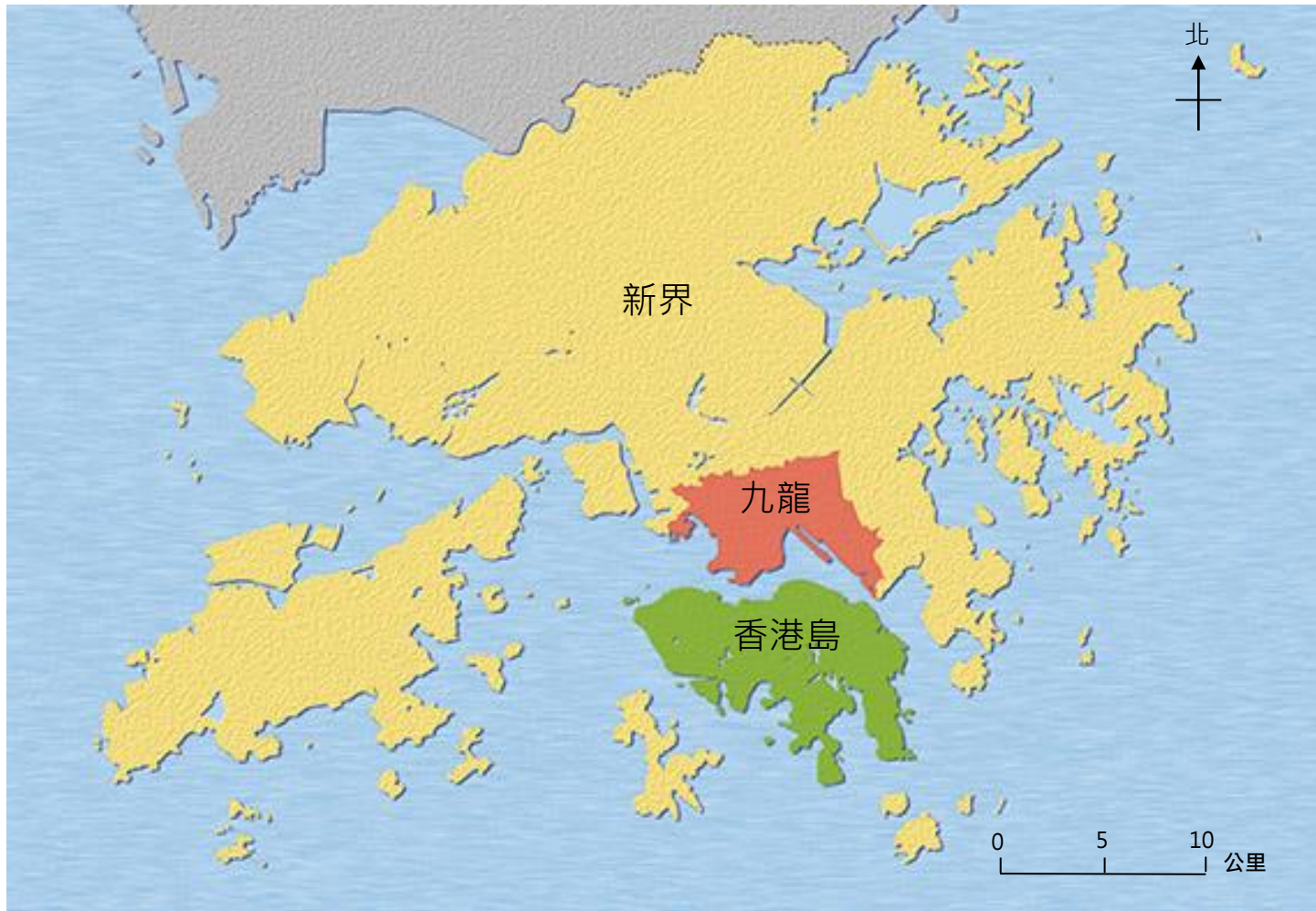
- ◆ 日本在香港的東北方；菲律賓在香港的東南方；泰國在香港的西南方。

# 香港全境圖



- ◆ 顯示整個香港，讓我們知道香港境內的地方。

# 香港全境圖



- ◆ 香港包括香港島、九龍和新界，三個主要區域。



# 香港街道圖—尖沙咀



- ◆ 顯示香港某地區的街道和建築物，讓我們仔細知道某地區的街道和建築物的位置。

# 香港街道圖—尖沙咀



- ◆ 中港城在尖沙咀港鐵站的西北方；  
九龍公園在中港城的東方。

# 地圖的共同要素



世界地圖



亞洲地圖



香港全境圖

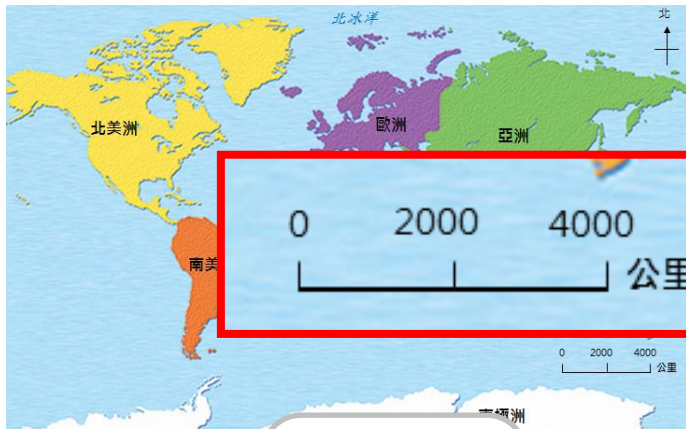


香港街道圖

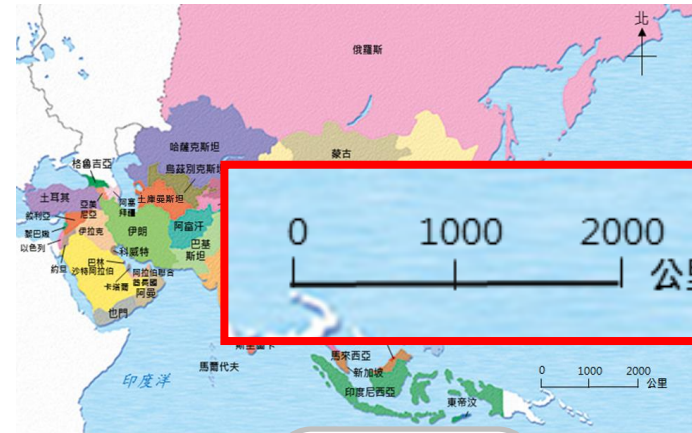
◆ 標題：描述地圖的內容。



# 地圖的共同要素



世界地圖



亞洲地圖



香港全境圖



香港街道圖

◆ 比例尺：有助我們知道景物的實際大小和距離。

# 不同地圖的特點



- ◆ 覆蓋範圍較大的地圖，顯示的景物較粗略；
- 覆蓋範圍較小的地圖，顯示的景物較細緻。

# 總結

不同的地圖提供不同的資料。從世界地圖和亞洲地圖，我們知道香港位於亞洲，是中國東南端的城市。從香港全境圖，我們看到香港的三個主要區域。從香港街道圖，我們看到香港各區的街道、大廈等資料。

